



**EVALUAREA COMPETENȚELOR FUNDAMENTALE  
LA FINALUL CLASEI a II-a  
2014**

**Test 2**

**MATEMATICĂ**

**Județul / sectorul.....**

**Localitatea.....**

**Școala.....**

**Numele și prenumele elevei / elevului.....**

.....

**Clasa a II-a.....**

**Băiat** ☐

**Fată** ☐

Јелена, Јована, Влада и Андрија сакупљају маркице. До сада свако дете има одређен број маркица, као по датом примеру:

Јелена



138 маркица

Јована



82 маркице

Влада



246 маркица

Андрија



83 маркице

1. У односу на број сакупљених маркица стави децу по растућем редоследу.  
**Заокружи слово које одговара тачном одговору.**

- а) Влада, Јелена, Јована, Андрија
- б) Јована, Андрија, Јелена, Влада
- в) Андрија, Јована, Јелена, Влада
- г) Јована, Андрија, Влада, Јелена

Nu se completează de către elev  
COD

1.

2. Јована каже да је број њених маркица већи од броја маркица које има Андрија.  
**Напиши, у датом простору, одговарајући знак (<, > или =) између броја Јованиних и Андријиних маркица, како би доказао ко је у праву.**

82  83

Nu se completează de către elev  
COD

2.

3. Коју од наведених рачунских операција требаш урадити, како би сазнао колико маркица су сакупили заједно Влада и Јелена?

**Заокружи слово које одговара тачном одговору.**

- а)  $83 + 138$
- б)  $246 + 138$
- в)  $138 - 83$
- г)  $246 - 138$

*Nu se completează de către elev*  
COD

3.

4. Колико је маркица још потребно Јовани да има свега 100?

**Заокружи слово које одговара тачном одговору.**

- а) 2 маркице
- б) 18 маркица
- в) 28 маркица
- г) 230 маркица

*Nu se completează de către elev*  
COD

4.

5. Деца су сакупљала маркице током две седмице и четири дана. Колико су дана сакупљали маркице?

**Заокружи слово које одговара тачном одговору.**

- а) 11 дана
- б) 14 дана
- в) 16 дана
- г) 18 дана

*Nu se completează de către elev*  
COD

5.

6. Јована је сложила своје маркице, као на датој слици:  
**Погледај модел и попуни дату реченицу испод слике.**



Следећа маркица је .....

Nu se completează de către elev  
 COD

6.

7. Коју геометријску фигуру користиш како би нацртао дату маркицу?  
**Заокружи слово које одговара тачном одговору.**



- а) један круг
- б) један квадрат
- в) један троугао
- г) један правоугаоник

Nu se completează de către elev  
 COD

7.

8. Које дете је сакупило више од 150 маркица?

**Заокружи слово које одговара тачном одговору.**




- а) Јелена
- б) Влада
- в) Јована
- г) Андрија

*Nu se completează de către elev*  
COD

8.

9. У таблици дат је број маркица које има Јелена. Бројеви који недостају представљају њене омиљене маркице. Поређај у растућем редоследу бројеве ових маркица?

**Заокружи слово које одговара тачном одговору.**

61		63	64
65	66	67	68
	70		72
73	74	75	76

- а) 62, 69 и 71
- б) 69, 71 и 62
- в) 71, 69 и 62
- г) 62, 71 и 69

*Nu se completează de către elev*  
COD

9.

10. Колико је Јовани још потребно маркица да би имала исти број као и Влада?  
**Напиши решење у датом простору.**

[illegible]

10.

11. Колико су укупно маркица сакупили Влада и Јована?  
**Напиши решење у датом простору.**

[illegible]

11.

12. Јелена има 14 леја и жели да купи маркице. Цена маркица дата је у доњој табlici:

Маркица са цвећем	6 леја
Маркица са лептирићима	8 леја
Маркица са животињама	7 леја
Маркица за колекцију	9 леја

Може ли Јелена да купи, за тих 14 леја, једну маркицу са лептирићима и једну са животињама?

**Објасни твој одговор, у датом простору.**

**Објасни твој одговор, у датом простору.**

[illegible]

Да, зато што \_\_\_\_\_

**Не, зато што** \_\_\_\_\_

Nu se completează de către elev  
COD

11/11/2019

**FELICITĂRI, AI AJUNS LA SFÂRȘITUL TESTULUI!**

# MULȚUMIM PENTRU PARTICIPARE!