



**EVALUAREA COMPETENȚELOR FUNDAMENTALE
LA FINALUL CLASEI a II-a
2014**

Test 2

MATEMATICĂ

Județul / sectorul.....

Localitatea.....

Școala.....

Numele și prenumele elevei / elevului.....

.....

Clasa a II-a.....

Băiat ☐

Fată ☐

Elena, Ioana, Vlad și Andrei jsou zběratele známek.
Do teďka, každý dítě má následující počet známek:

Elena



138 známek

Ioana



82 známek

Vlad



246 známek

Andrei



83 známek

1. Které je roustoucí(vzestupné) pořadí dětí, podle počtu známek které každý vlastní?
Zakroužkuj písmeno se správnou odpovědí.

- a) Vlad, Elena, Ioana, Andrei
- b) Ioana, Andrei, Elena, Vlad
- c) Andrei, Ioana, Elena, Vlad
- d) Ioana, Andrei, Vlad, Elena

Nu se completează de către elev
COD

1.

2. Ioana říká že počet svých známek je větší než počet známek co má Andrei.
Napiš, do tabulky, správné znaménko(<, > nebo =) mezi počtem známek Ioany a počtem známek Andreje, aby jsi ukázal kdo má pravdu.

82 83

Nu se completează de către elev
COD

2.

3. Které z následujících cvičení se musí vypočítat, aby se zjistilo kolik mají Vlad a Elena známek dohromady?

Zakroužkuj písmeno se správnou odpovědí.

- a) $83 + 138$
- b) $246 + 138$
- c) $138 - 83$
- d) $246 - 138$

Nu se completează de către elev
COD

3.

4. Kolik známek ještě musí sehnat Ioana aby měla 100 známek?

Zakroužkuj písmeno se správnou odpovědí.

- a) 2 známky
- b) 18 známek
- c) 28 známek
- d) 230 známek

Nu se completează de către elev
COD

4.

5. Děti shromáždily své známky za dva týdny a čtyři dni. Kolik dní shromažďovaly své známky?

Zakroužkuj písmeno se správnou odpovědí.

- a) 11 zile
- b) 14 zile
- c) 16 zile
- d) 18 zile

Nu se completează de către elev
COD

5.

6. Ioana nalepila známky do svého alba, jako v následujícím obrázku:
Pozoruj vzor a doplň větu pod obrázkem.



Do řady známek následuje známka s

Nu se completează de către elev
 COD

6.

7. Jaký geometrický tvar použiješ aby jsi nakreslil následující známku?
Zakroužkuj písmeno se správnou odpovědí.



- a) kruh
- b) čtverec
- c) trojúhelník
- d) obdelník

Nu se completează de către elev
 COD

7.




8. Které z dětí sehnalo více než 150 známek?
Zakroužkuj písmeno se správnou odpovědí.

- a) Elena
- b) Vlad
- c) Ioana
- d) Andrei

Nu se completează de către elev
 COD

8.	<input type="text"/>
----	----------------------

9. V tabulce jsou uvedeny čísla Elenino známek. Čísla které chybí, představují její oblíbené známky. Které jsou, v rostoucím (vzestupném) pořadí tato čísla?
Zakroužkuj písmeno se správnou odpovědí.

61		63	64
65	66	67	68
	70		72
73	74	75	76

- a) 62, 69 și 71
- b) 69, 71 și 62
- c) 71, 69 și 62
- d) 62, 71 și 69

Nu se completează de către elev
 COD

9.	<input type="text"/>
----	----------------------

10. Kolik známek musí sehnat Ioana aby měla stejný počet známek jako Vlad?
Napiš, na vyhrazenou část, řešení.

[illegible]

11. Který je počet známek co mají dohromady Vlad a Ioana?
Napiš, na vyhrazenou část, řešení.

[illegible]

Pagina 6 din 7

12. Elena má 14 lei a jde nakupovat známky. Cena známek je uvedená v následující tabulce:

Známka s květinami	6 lei
Známka s motýly	8 lei
Známka se zvířaty	7 lei
Kolekční známka	9 lei


Muže Elena koupit, za 14 lei, jednu známku s motýly a jednu se zvířaty?
Vysvětli, na vyhrazené části, svojí odpověď.

[illegible]

Ano, protože_____

Ne, protože_____

Nu se completează de către elev
COD

12. 

FELICITĂRI, AI AJUNS LA SFÂRȘITUL TESTULUI!

MULȚUMIM PENTRU PARTICIPARE!