



Examenul național de bacalaureat
Proba E. d)
Geografie

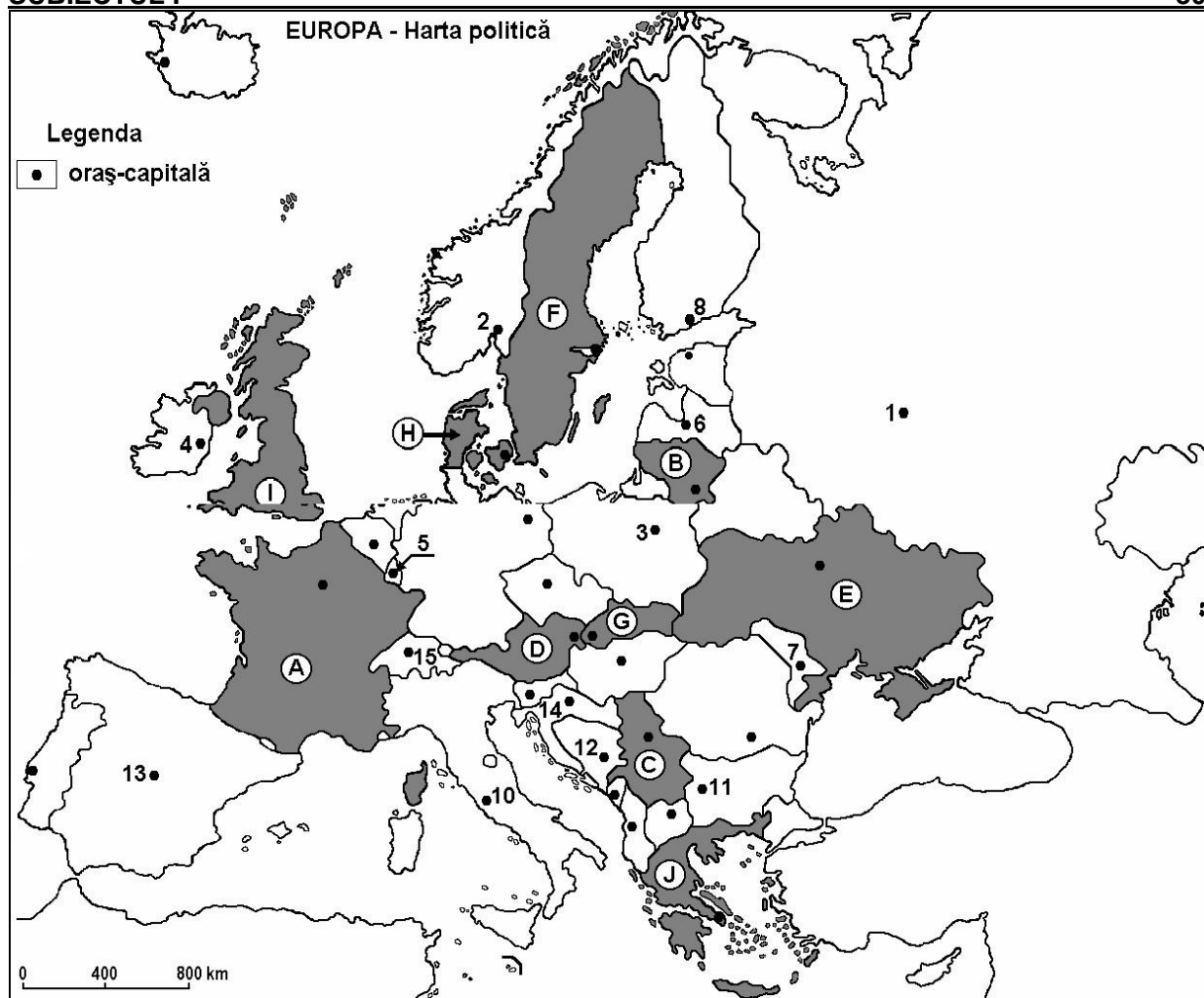
Test antrenament 4

Profilul umanist din filiera teoretică, profilul servicii din filiera tehnologică și toate profilurile și specializările din filiera vocațională, cu excepția profilului militar.

- Toate subiectele sunt obligatorii. Se acordă 10 puncte din oficiu
- Timpul efectiv de lucru este de 3 ore

SUBIECTUL I

30 puncte



Harta de mai sus se referă la subiectul I A – E. Pe hartă sunt marcate state cu litere și orașe - capitală cu numere.

A. Precizați:

1. numele statului marcat, pe hartă, cu litera H;
2. numele orașului-capitală marcat, pe hartă, cu numărul 13.

4 puncte

B. Scrieți, pe foaia de examen, răspunsurile corecte care completează afirmațiile de mai jos:

1. Statul marcat, pe hartă, cu litera E are ieșire la Marea ...
2. Capitala statului marcat, pe hartă, cu litera A se numește ...
3. Orașul-capitală Helsinki este marcat, pe hartă, cu numărul ...

6 puncte

C. Scrieți, pe foaia de examen, litera corespunzătoare răspunsului corect pentru fiecare dintre afirmațiile de mai jos:



1. Capitala Croației este orașul marcat, pe hartă, cu numărul:
a. 3 b. 11 c. 12 d. 14 **2 puncte**
2. Plantații de măsline sunt specifice statului marcat, pe hartă, cu litera:
a. D b. F c. H d. J **2 puncte**
3. Munții Penini sunt situați pe teritoriul statului marcat, pe hartă, cu litera:
a. C b. F c. I d. J **2 puncte**
4. Stepă este o zonă de vegetație caracteristică statului marcat, pe hartă, cu litera:
a. A b. D c. E d. I **2 puncte**
5. Orașul-capitală marcat, pe hartă, cu numărul 5 se numește:
a. Ljubljana b. Luxembourg c. Vaduz d. Valletta **2 puncte**

D. Precizați trei deosebiri între **clima** statului marcat, pe hartă, cu litera I și **clima** statului marcat, pe hartă, cu litera J.

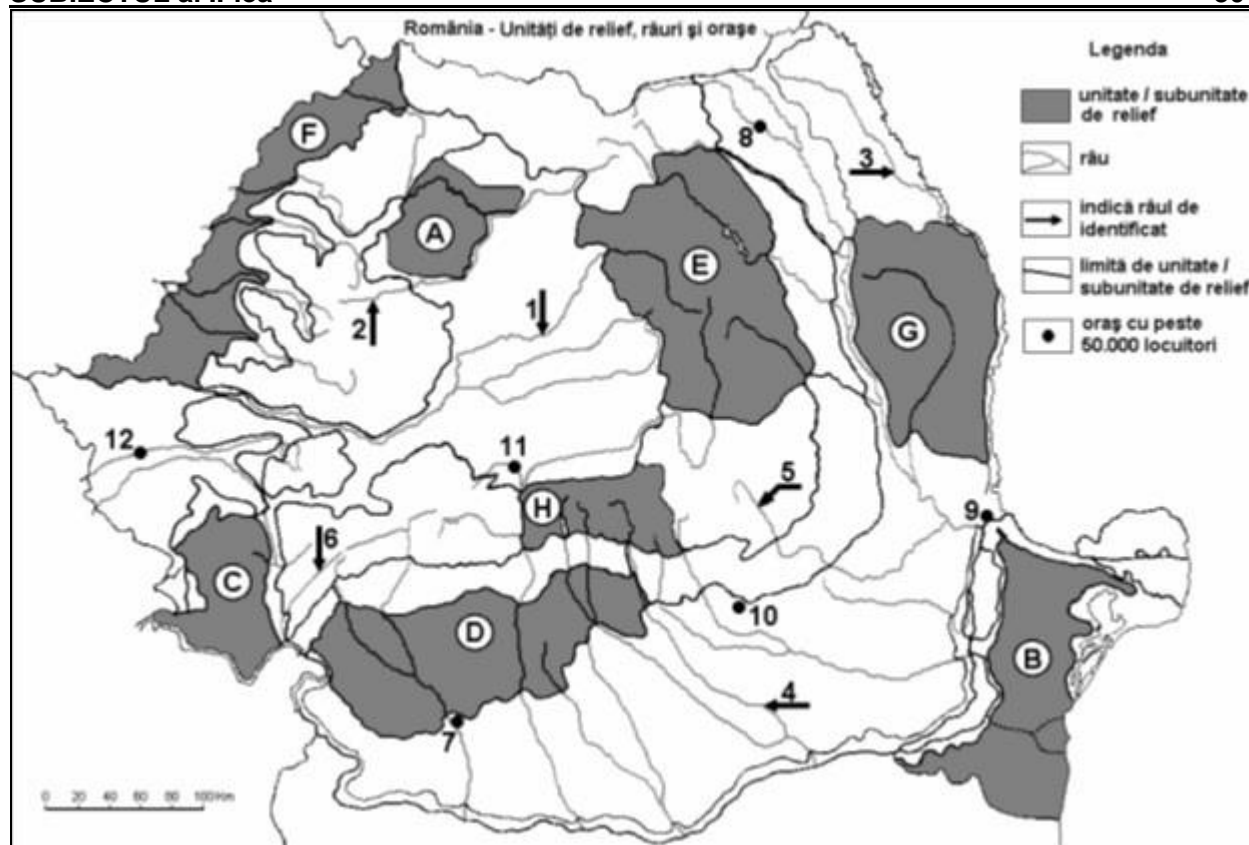
Nota 1: Deosebirile se pot referi la oricare dintre următoarele elemente de **climă**: tip de climă, etaj climatic, factori genetici, temperaturi medii anuale/vară/iarnă, amplitudine termică, precipitații medii anuale/vară/iarnă, vânturi cu frecvență ridicată.

Nota 2: Punctajul complet va fi acordat numai dacă deosebirile vor fi prezentate comparativ și nu separat. **6 puncte**

- E. 1. Prezentați un factor natural care favorizează cultivarea viței de vie în peninsulele Italică și Iberică. **2 puncte**
2. Precizați un factor care a determinat prezența reliefului glaciatic în Munții Alpi. **2 puncte**

SUBIECTUL al II-lea

30 puncte



Harta de mai sus se referă la subiectul II A – E. Pe hartă sunt marcate unități de relief cu litere, orașe cu numere de la 1 la 6 și râuri cu numere de la 7 la 12.

A. Precizați:

1. numele orașului marcat, pe hartă, cu numărul 12;
2. numele râului marcat, pe hartă, cu numărul 1.

4 puncte

B. Scrieți, pe foaia de examen, răspunsurile corecte care completează afirmațiile de mai jos:



1. Cel mai mare oraș, ca număr de locuitori, pe care îl străbate râul marcat, pe hartă, cu numărul 4 se numește ...
2. Unitatea de relief marcată, pe hartă, cu litera G se numește ...
3. Râul marcat, pe hartă, cu numărul 5 se numește ...

6 puncte

C. Scrieți, pe foaia de examen, litera corespunzătoare răspunsului corect pentru fiecare dintre afirmațiile de mai jos:

1. Un combinat siderurgic se află în orașul marcat, pe hartă, cu numărul:
a. 7 b. 9 c. 11 d. 12 2 puncte
2. Râul marcat, pe hartă, cu numărul 6 se numește:
a. Cerna b. Cibin c. Lotru d. Motru 2 puncte
3. Relief vulcanic există în unitatea de relief marcată, pe hartă, cu litera:
a. B b. C c. E d. H 2 puncte
4. Influențe climatice oceanice pătrund în unitatea de relief marcată, pe hartă, cu litera:
a. B b. D c. F d. G 2 puncte
5. Orașul marcat, pe hartă, cu numărul 10 se numește:
a. Pitești b. Ploiești c. Slatina d. Târgoviște 2 puncte

D. Precizați trei deosebiri între **relieful** unității marcate, pe hartă, cu litera C și **relieful** unității marcate, pe hartă, cu litera D.

Nota 1: Deosebirile se pot referi la oricare dintre următoarele aspecte ale **reliefului**: mod de formare, tipuri de roci pe care s-a format relieful, altitudini, fragmentare, tipuri de relief, orientarea culmilor și a văilor principale, dispunerea depresiunilor, alte aspecte specifice ale reliefului.

Nota 2: Punctajul complet va fi acordat numai dacă cele două deosebiri și asemănarea vor fi prezentate comparativ și nu separat.

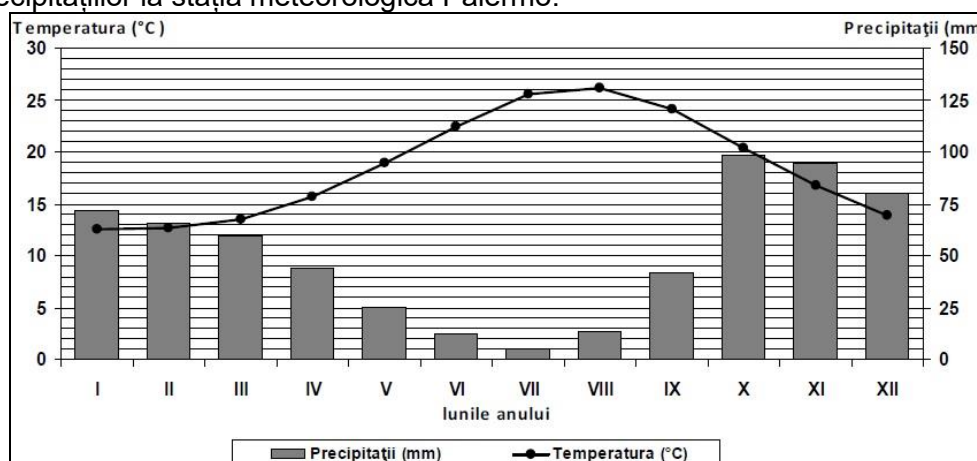
6 puncte

E. Prezentați doi factori naturali care favorizează cultivarea plantelor în unitatea de relief marcată, pe hartă, cu litera B.

4 puncte

SUBIECTUL al III-lea (30 de puncte)

Reprezentarea grafică de mai jos se referă la subiectul III A-B și prezintă evoluția temperaturii aerului și a precipitațiilor la stația meteorologică Palermo.



A. Precizați:

1. valoarea minimă a cantității de precipitații lunare, precum și luna în care se înregistrează;
2. valoarea maximă a temperaturii medii lunare, precum și luna în care se înregistrează.

4 puncte

B. Scrieți litera corespunzătoare răspunsului corect, pentru fiecare dintre afirmațiile de mai jos:

1. Amplitudinea termică are valori cuprinse între:
a. 4-7°C b. 8-11°C c. 12-15°C d. 17-20°C
2. Diferența dintre cea mai ridicată și cea mai scăzută cantitate de precipitații lunare este:
a. 77-80 mm b. 83-86 mm c. 91-94 mm d. 98-101 mm
3. Tipul de climat caracteristic stației meteorologice este:



- a. mediteraneean (subtropical)
c. temperat continental excesiv

- b. subpolar
d. temperat oceanic

6 puncte

C. Pentru fluviul Dunărea, precizați:

1. numele a trei state traversate, cu excepția României;
2. numele a două unități de relief traversate;
3. numele a trei afluenți din afara României;
4. numele a două orașe-capitală prin care trece.

10 puncte

D. Aveți în vedere următorul tabel:

Statul	Suprafața (km ²)	Populația (loc.)
Slovacia	48.845	5.379.500
Olanda	41.526	16.656.000

Sursa: <http://epp.eurostat.ec.europa.eu>

Notă: Datele referitoare la populație au fost rotunjite

1. Precizați care dintre cele două state are o densitate medie a populației mai mare.
2. Prezentați două cauze ale diferenței de densitate a populației între cele două state.

6 puncte

E. Precizați doi factori socio-economici care determină deplasarea populației în spațiul european.

4 puncte